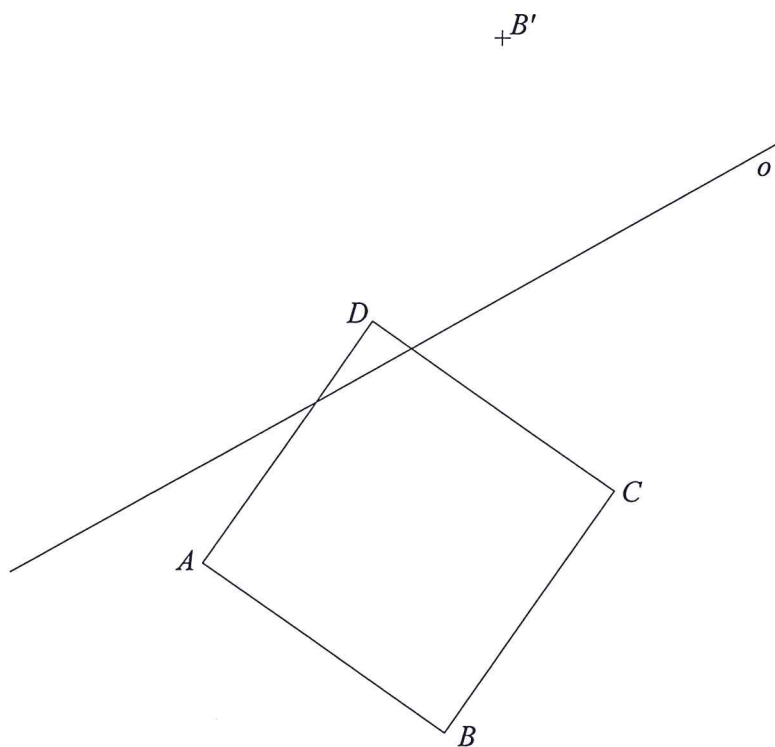
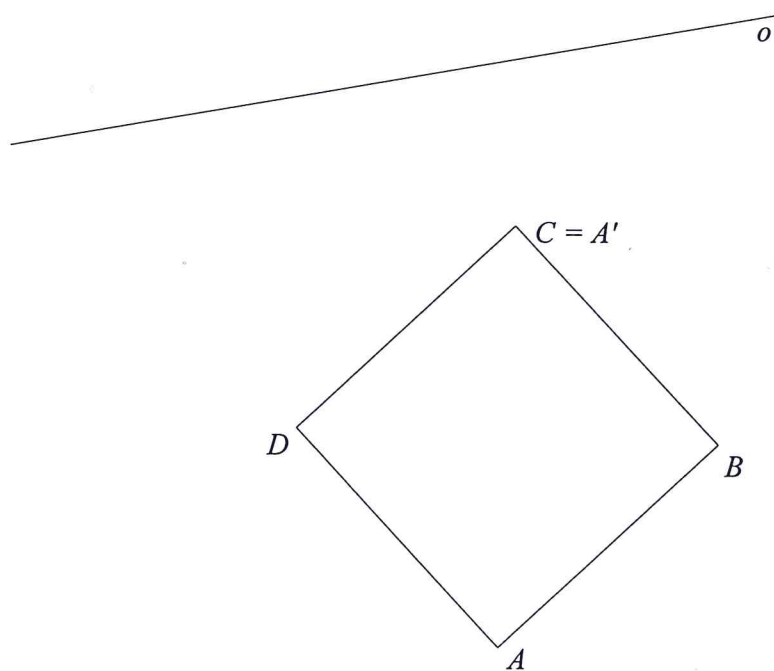


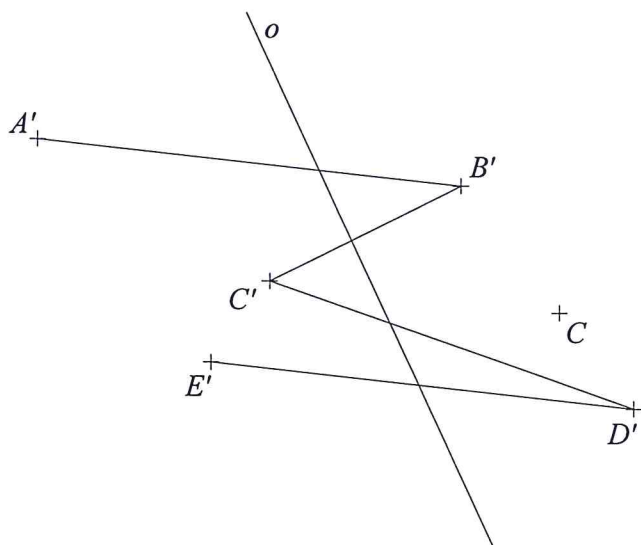
Příklad 91: Osová afinita je dána osou o a dvojicí odpovídajících si bodů B, B' . Sestrojte obraz $A'B'C'D'$ čtverce $ABCD$.




Příklad 92: Osová afinita je dána osou o a dvojicí odpovídajících si bodů A, A' . Sestrojte obraz $A'B'C'D'$ čtverce $ABCD$.



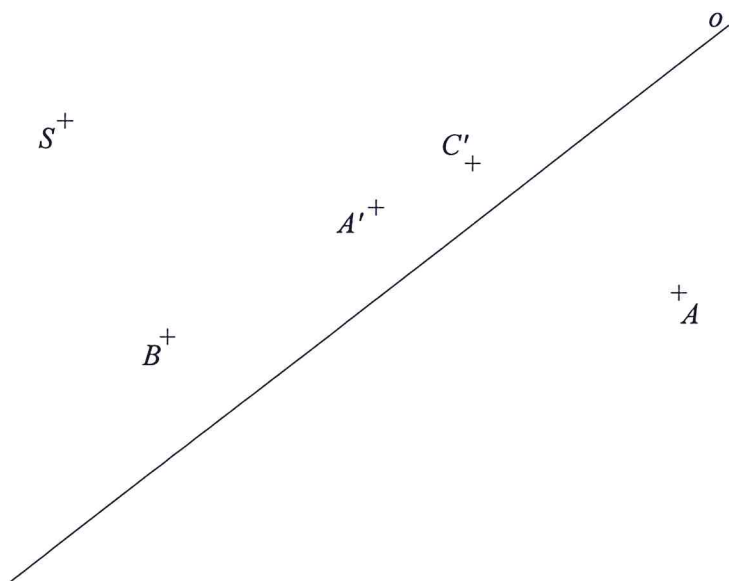
Příklad 93: Osová afinita je dána osou o a dvojicí odpovídajících si bodů C, C' . Sestrojte vzor $ABCDE$ lomené čáry $A'B'C'D'E'$.



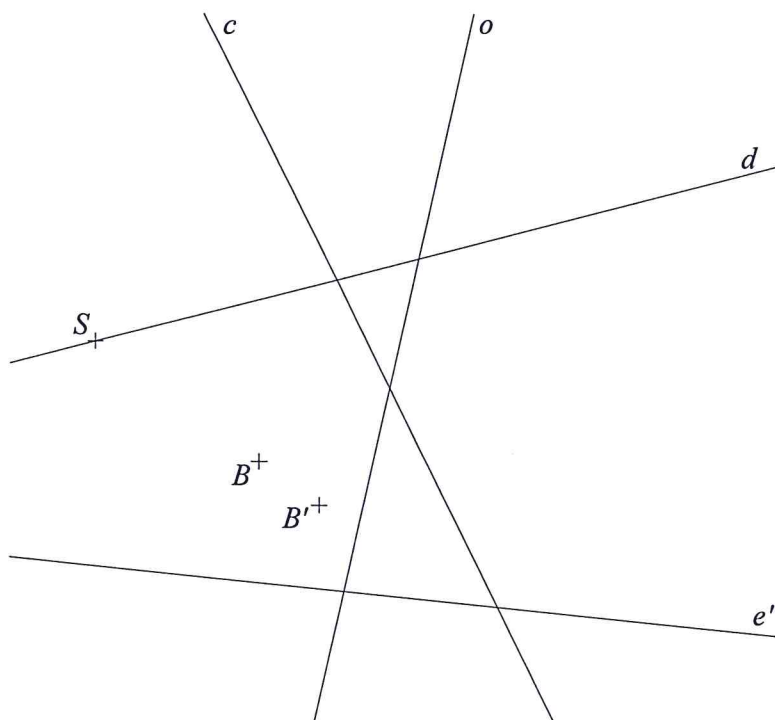
Příklad 94: Sestrojte osu o a směr s osově afinity, víte-li, že bodům A, B, C odpovídají po řadě body A', B', C' .



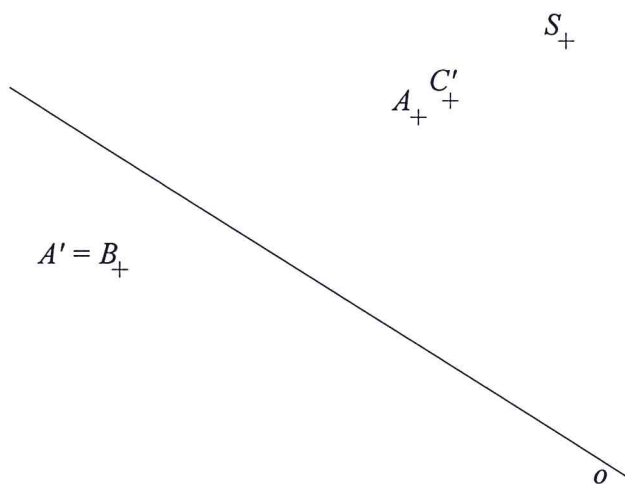
Příklad 107: Středová kolineace je dána středem S , osou o a dvojicí odpovídajících si bodů A, A' . Sestrojte obraz B' bodu B a vzor C' bodu C .



Příklad 108: Středová kolineace je dána středem S , osou o a dvojicí odpovídajících si bodů B, B' . Sestrojte obraz c' přímky c , obraz d' přímky d a vzor e přímky e' .



Příklad 109: Středová kolineace je dána středem S , osou o a dvojicí odpovídajících si bodů A, A' . Sestrojte obraz B' bodu B a vzor C bodu C' .



Příklad 110: Středová kolineace je dána středem S , osou o a dvojicí odpovídajících si bodů B, B' . Sestrojte obraz $A'B'C'$ trojúhelníku ABC .

